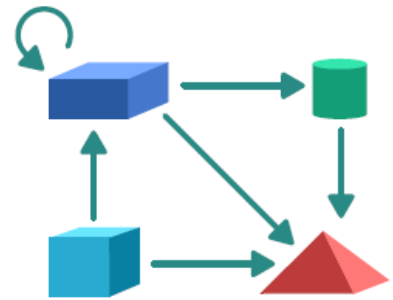






In ihrem neuen Baukasten findet Julia vier Sorten Bauklötze. Sie erfindet Regeln, wie sie mit den Klötzen Türme bauen möchte. Das Bild zeigt Julias Regeln: Julia setzt nur dann einen Klotz auf einen anderen, wenn ein Pfeil vom unteren zum oberen Klotz zeigt.



Ein Beispiel: Auf einen blauen Quader  darf sie einen grünen Zylinder  setzen, eine rote Pyramide , viele andere blaue Quader, aber keinen türkisen Würfel . Wenn Julia einen Turm baut, fängt sie mit irgendeinem Klotz an und hält sich dann genau an ihre Regeln. Sie hört auf, wenn sie keine Lust mehr hat – oder wenn es nach den Regeln nicht mehr weitergeht.

Welchen Turm hat Julia gebaut?



A)



B)



C)



D)